



Learn About 

time!



Aktivitätsbuch

Tag oder Nacht

Hilf den Tieren, zwischen vormittags und nachmittags zu unterscheiden. Wenn sie die Tätigkeit am Vormittag erledigen sollen, male die Sonne aus. Wenn sie die Tätigkeit am Nachmittag/Abend erledigen sollen, male den Mond aus. Wenn sie die Tätigkeit am Vormittag und am Nachmittag/Abend erledigen sollen, male Sonne und Mond aus.

Jeder Tag besteht aus 24 Stunden. Diese 24 Stunden werden in zwei gleiche Abschnitte zu jeweils 12 Stunden unterteilt. Die ersten 12 Stunden beginnen um 12 Uhr Mitternacht und enden um 12 Uhr mittags. Diese Zeit nennen wir den Morgen oder Vormittag.

Die zweiten 12 Stunden beginnen um 12 Uhr mittags und enden um 12 Uhr Mitternacht. Diese Zeit nennen wir den Nachmittag oder Abend.



Craig frühstückt.

a.m.



p.m.



Jill geht schlafen.

a.m.



p.m.



Lenny geht in die Schule

a.m.



p.m.



Jack putzt sich die Zähne.

a.m.



p.m.



Die Familie isst zu Abend.

a.m.



p.m.



Zeit fürs Essen

Ordne jede Zeile dem richtigen Zifferblatt zu.


Randy frühstückt am liebsten um 8:00 Uhr.




Randy nimmt sein Vormittags-Pausenbrot um 10:30 Uhr ein.



Randy isst um 12:00 Uhr zu Mittag.




Um 3:30 Uhr nimmt Randy einen Nachmittagssnack ein.



Randy isst mit seiner Familie um 6:00 Uhr zu Abend.



Und zu welchen Zeiten isst du?



Uhrzeit ablesen

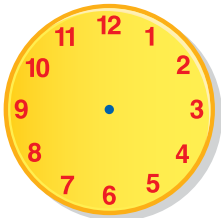
Fülle die Lücken aus, damit alle 3 Uhrzeiten einer Zeile übereinstimmen.



oder

:

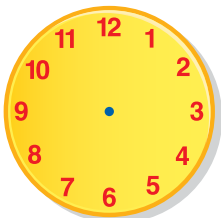
oder _____ Uhr



oder

7:00

oder _____ Uhr

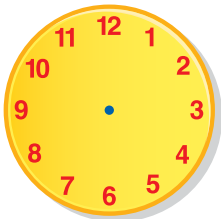


oder

:

oder 4 Uhr

Welche Uhrzeit des Tages magst du am liebsten?



oder

:

oder _____ Uhr

Uhrzeit zuordnen

Ordne die Zifferblätter der richtigen analogen Uhrzeit zu.



5:00



9:45



6:30




3:15



11:30



7:45



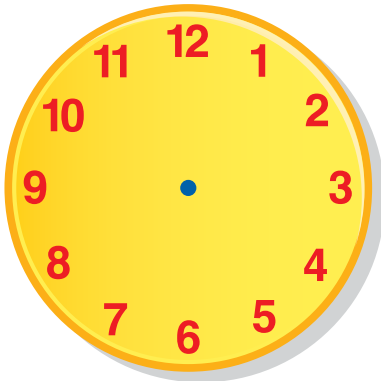
10:00



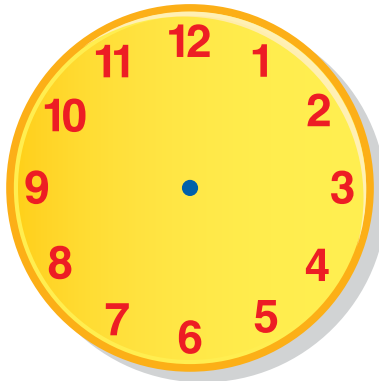
2:00

Wie viel Uhr ist es?

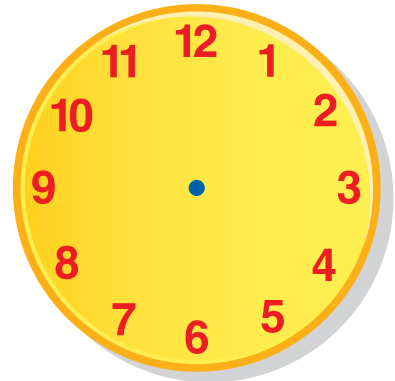
Zeichne die Zeiger richtig auf die Zifferblätter.



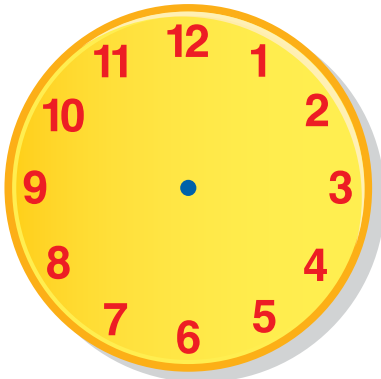
10:30



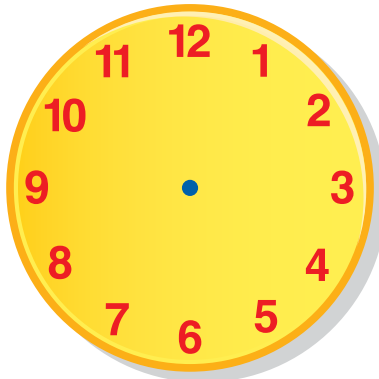
5:00



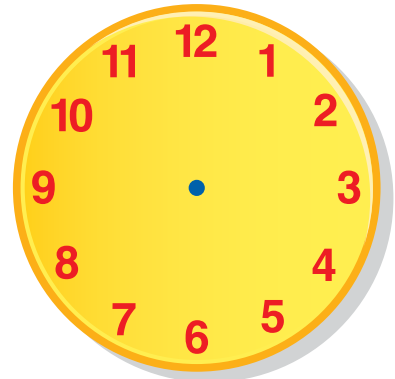
2:15



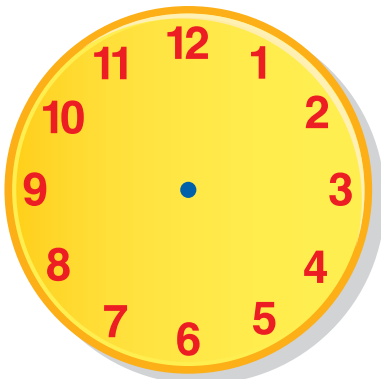
12:00




6:30



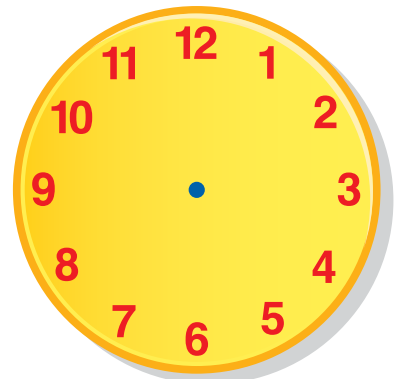
4:45



8:15



3:00



7:30